

平成31年度

《第1回 進学クラス選抜試験》

社 会

時間30分， 50点満点

受験上の注意

1. 解答用紙には，受験番号・氏名を記入してください。
2. 解答は，解答用紙の所定のところに記入してください。
記入方法を誤ると得点になりません。
3. 試験終了の合図とともに，解答用紙・問題用紙とも提出してください。

郁文館中学校

問題は次のページから始まります。

1 次の表1を見て、下記の各問いに答えなさい。

表1
高齢化率順位

順位	都道府県	高齢化率(%)
1	秋田県	33.8
2	①高知県	32.8
3	島根県	32.5
4	山口県	32.1
5	徳島県	31.0
6	和歌山県	30.9
7	山形県	30.8
8	愛媛県	30.6
9	富山県	30.5
10	大分県	30.4
10	岩手県	30.4
12	青森県	30.1
12	長野県	30.1
14	香川県	29.9
14	新潟県	29.9
16	鳥取県	29.7
17	長崎県	29.6
18	宮崎県	29.5
19	鹿児島県	29.4
20	(A)	29.1
43	滋賀県	24.2
44	神奈川県	23.9
45	②愛知県	23.8
46	東京都	22.7
47	(B)	19.6

総務省「国勢調査(平成27年度調査)」を参照して作成
なお、高齢化率の数字は四捨五入したものを使用している

問1 表1の中で、東北地方にあてはまる都道府県の数としてふさわしいものを、下の(ア)～(エ)の中から一つ選び記号で答えなさい。ただし、(A)(B)の都道府県は対象外とします。

(ア) 4	(イ) 5	(ウ) 6	(エ) 7
-------	-------	-------	-------

問2 表1の中で、海に面していない都道府県の数としてふさわしいものを、下の(ア)～(エ)の中から一つ選び記号で答えなさい。ただし、(A)(B)の都道府県は対象外とします。

(ア) 0	(イ) 1	(ウ) 2	(エ) 3
-------	-------	-------	-------

問3 表1の中で、東京都を除いて、人口100万人以上の市をもつ都道府県の数としてふさわしいものを、下の(ア)～(エ)の中から一つ選び記号で答えなさい。ただし、(A)(B)の都道府県は対象外とします。

(ア) 0 (イ) 1 (ウ) 2 (エ) 3

問4 高齢化率が高い都道府県で起きている問題としてふさわしくないものを、下の(ア)～(エ)の中から一つ選び記号で答えなさい。

(ア)労働人口の減少 (イ) ^{かさかさ}過疎化 (ウ) 税収の減少 (エ) 医療費の減少

問5 下線部①の伝統工芸品としてふさわしいものを、下の(ア)～(エ)の中から一つ選び記号で答えなさい。

(ア) 南部鉄器 (イ) 土佐和紙 (ウ) 輪島塗 (エ) 美濃焼

問6 下線部②を中心とする工業地帯の工業生産額割合の中で、最も高いものとしてふさわしいものを、下の(ア)～(エ)の中から一つ選び記号で答えなさい。

(ア) 金属 (イ) 食料品 (ウ) 機械 (エ) せんい

問7 下の表2を参考に、表1の(A)に該当する都道府県としてふさわしいものを、下の(ア)～(エ)の中から一つ選び記号で答えなさい。

表2
食料自給率

都道府県	カロリー(%)
全国平均	39
(A)	221
青森県	124
東京都	1
新潟県	105
愛知県	12
宮崎県	66
(B)	25

農林水産省のデータ(平成27年度の確定値)を参照して作成

(ア) 宮城県 (イ) 長野県 (ウ) 愛媛県 (エ) 北海道

問8 (A)の都道府県は多くの農産物において国内第1位の生産量をあげています。(A)の国内生産量第1位としてふさわしくないものを、下の(ア)～(エ)の中から一つ選び記号で答えなさい。

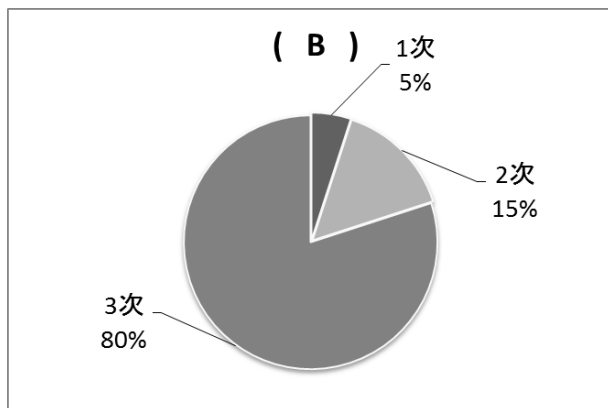
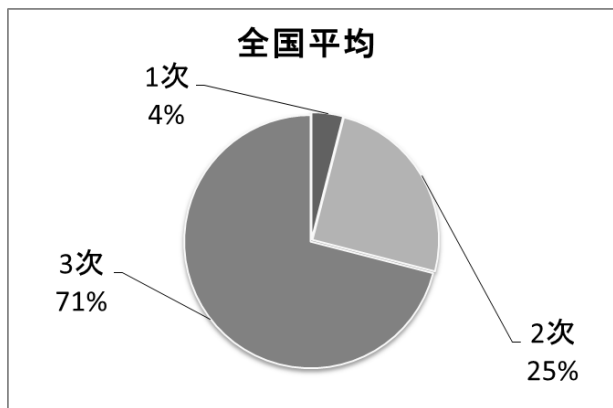
(ア) 小麦 (イ) たまねぎ (ウ) ピーマン (エ) じゃがいも

問9 (B)の都道府県は第3次産業が盛んです。第3次産業としてふさわしいものを、下の(ア)～(エ)の中から一つ選び記号で答えなさい。

- | | | | |
|--------|---------|-----------|---------|
| (ア) 農業 | (イ) 製造業 | (ウ) サービス業 | (エ) 水産業 |
|--------|---------|-----------|---------|

問10 下の図1は、日本の産業別労働人口(第1次～第3次)の割合を示したものです。図3を参考に、(B)にあてはまる都道府県として最もふさわしいものを、下の(ア)～(エ)の中から一つ選び記号で答えなさい。

図3



出典：データでみる県勢2018年版

- | | | | |
|---------|---------|---------|---------|
| (ア) 沖縄県 | (イ) 山口県 | (ウ) 岐阜県 | (エ) 島根県 |
|---------|---------|---------|---------|

2 次の文を読んで、下記の各問いに答えなさい。

平成 25 年 12 月、日本の伝統的な食文化「和食」がユネスコの無形①文化遺産に登録されました。南北に長い日本列島は、海、山、里と豊かな自然が広がっており、多様な食材を用い、各地でその地域に根ざした、様々な食文化がつくられてきました。

②縄文時代の人々は、自然の流れにあわせ、季節のものを食べる習慣がありました。また、素材の味わいを活かすために③調理技術や調理道具の工夫をしました。

弥生時代に入ると、④稲作が伝わり農耕がはじまりました。⑤収穫した稲を保管するための建物などもつくられました。稲作とともに、青銅器や鉄器などの金属器も伝わり、⑥武器や工具として活用されるようになりました。稲作がさかんになると、社会の仕組みも急速に変わり、⑦人々を支配する豪族や王が出現しました。

6 世紀になると、⑧遣隋使が派遣され大陸とのやりとりが盛んになりました。またそれ以前に仏像や経典が百済からおくられ⑨仏教が日本に伝わり、大陸の文化は日本へ大きな影響を与えました。

特に王族や豪族たちの食事には、魚介類や干し肉、牛乳を長時間かけて煮詰めた「蘇」というものを食べていました。しかし、⑩庶民の食事は弥生時代とほとんど変わりはありませんでした。

問 1 下線部①において、1993 年に世界文化遺産に登録された、世界最古の木造の寺院としてふさわしいものを、下の (ア) ～ (エ) の中から一つ選び記号で答えなさい。

(ア) 鹿苑寺 (イ) 唐招提寺 (ウ) 法隆寺 (エ) 東大寺

問 2 下線部②において、縄文時代の人々の生活と関連する史料としてふさわしいものを、下の (ア) ～ (エ) の中から一つ選び記号で答えなさい。



問3 下線部③において、縄文土器の説明としてふさわしくないものを、下の（ア）～（エ）の中から一つ選び記号で答えなさい。

- （ア）低温でじっくり焼き上げるため、厚手で黒っぽいのが特徴である。
- （イ）食料の保存や煮炊きのために、日常的に使用されていた。
- （ウ）薄手で硬く、赤みをおび、^{たかつき}高坏など実用的な形が多く作られた。
- （エ）作る過程で、縄や貝などを用いて模様をつけて焼いていた。

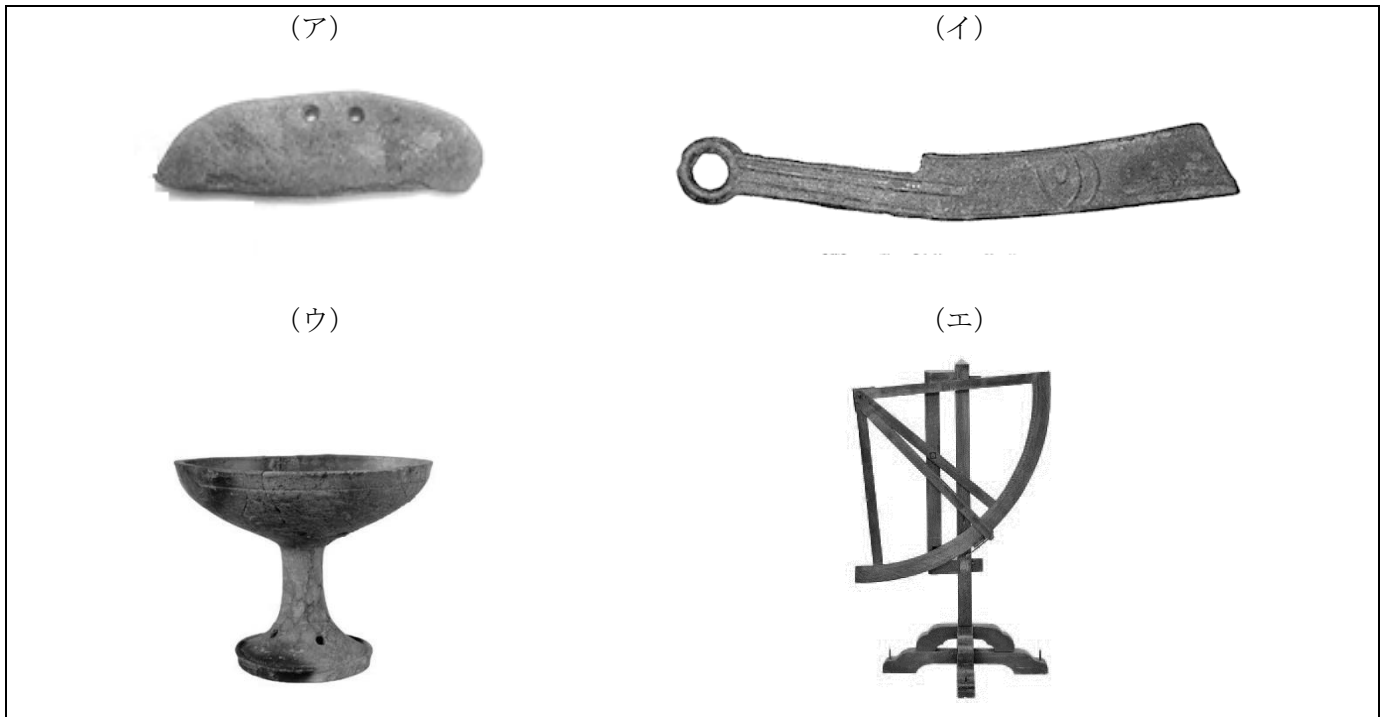
問4 下線部④において、1943年に静岡県の水田地帯から、多くの木製品が出土し、さらに水田跡と考えられる杭列も発見され、のちにこの地は弥生農耕集落の遺跡であることがわかりました。この遺跡としてふさわしいものを、下の（ア）～（エ）の中から一つ選び記号で答えなさい。

- （ア）登呂遺跡
- （イ）三内丸山遺跡
- （ウ）吉野ヶ里遺跡
- （エ）岩宿遺跡

問5 下線部⑤において、稲を保管した建物の説明文としてふさわしいものを、下の（ア）～（エ）の中から一つ選び記号で答えなさい。

- （ア）刈り取った稲の穂を湿気から守るために床を高くし、ねずみが入らないようにねずみ返しがつけられている。
- （イ）刈り取った稲の穂を湿気から守るため、建物の中央に炉を設け、たき火が出来るようになっている。
- （ウ）稲を守るため、周りを池の堀で囲んでおり、外部からの侵入に備えている。
- （エ）地面を約50cm掘り下げた半地下構造で、夏は涼しく冬は暖かな建物である。

問6 下線部⑥において、農耕具としてふさわしいものを、下の(ア)～(エ)の中から一つ選び記号で答えなさい。



問7 下線部⑦の説明としてふさわしいものを、下の(ア)～(エ)の中から一つ選び記号で答えなさい。

- (ア) 豪族という地位には任期があり、5年ごとに選挙で選んでいた。
(イ) 王や有力な豪族たちは、自分の墓として巨大な古墳を作らせた。
(ウ) 豪族は政治に関わることはなく、富を蓄えることだけを一番の仕事とした。
(エ) 各地の豪族は、他の地域の豪族たちと連携することはなかった。

問8 下線部⑧において、隋の進んだ制度や文化を取り入れようと、607年に遣隋使として派遣された人物名を答えなさい。

問9 下線部⑨において、朝鮮半島からもたらされた仏教は全国各地へ広がりました。特に、奥州藤原氏が建立した中尊寺金色堂は世界遺産としても有名です。この中尊寺がある都道府県としてふさわしいものを、下の(ア)～(エ)の中から一つ選び記号で答えなさい。

- (ア) 青森県 (イ) 奈良県 (ウ) 岩手県 (エ) 大阪府

問10 下線部⑩において、江戸時代後期、庶民の間で流行したのものとしてふさわしいものを、下の(ア)～(エ)の中から一つ選び記号で答えなさい。

- (ア) 水墨画 (イ) 浮世絵 (ウ) 連歌 (エ) 能

3 次の記事 A～D を読んで、下記の各問いに答えなさい。

記事 A

日米防衛相、北の核・ミサイル完全廃棄へ連携確認 尖閣諸島に【X】適用を再確認
小野寺防衛大臣と来日中のマティス米国防長官は 2018 年 6 月 29 日午前、防衛省で会談した。
～中略～
2 人は中国の脅威をもとに、尖閣諸島に米軍の日本に対する防衛義務を定めた【X】第 5 条が適用されることを再確認した。(2018 年 6 月 29 日 産経ニュースより一部抜粋・改編)

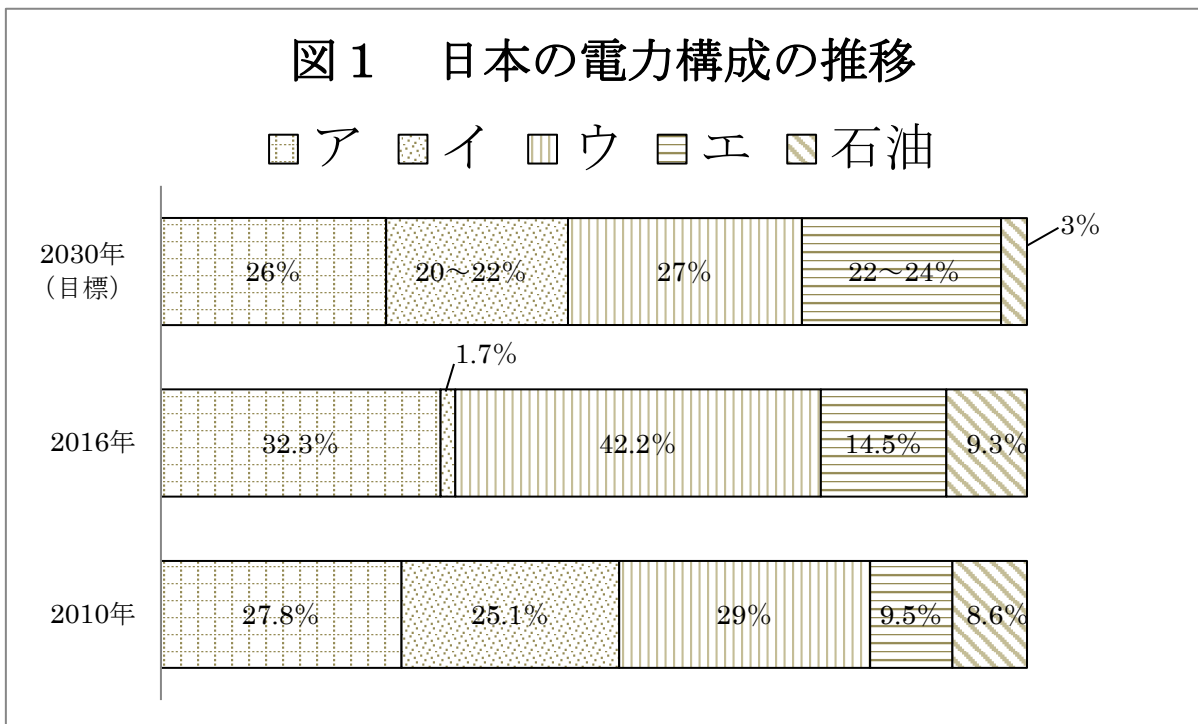
問 1 記事 A 中の【X】には、1951 年に結ばれた米軍を日本国内に滞在することを認めた条約名が入ります。【X】に当てはまる条約名としてふさわしいものを、下の (ア) ～ (エ) の中から一つ選び記号で答えなさい。

- | | |
|------------------|--------------|
| (ア) 日米安全保障条約 | (イ) 日米和親条約 |
| (ウ) サンフランシスコ平和条約 | (エ) 日米修好通商条約 |

記事 B

閣議決定 「原発は基幹電源」維持 2030 年度まで
政府は 2018 年 7 月 3 日、2030 年度までのエネルギー政策の方向性を示す「エネルギー基本計画」を 4 年ぶりに改定し、閣議決定した。「再生可能エネルギーの主力電力化」を打ち出す一方、①原子力発電も活用していく姿勢をみせた。(2018 年 7 月 4 日 デジタル毎日より一部抜粋・改編)

問 2 下線部①について、下記の図 1 は、日本の電力構成の推移を示した図です。図 1 中の (ア) ～ (エ) は、石炭・天然ガス・原子力・再生可能エネルギーのいずれかが当てはまります。原子力としてふさわしいものを、図 1 の (ア) ～ (エ) の中から一つ選び記号で答えなさい。



※出典：経済産業省の統計をもとに作成

記事C

平成の「次」へ着々 天皇代替わり儀式日程決まる

②平成の「次」へ準備着々。来年、③天皇陛下の退位と皇太子様の即位に伴う様々な儀式の日程が決まった。

(2018年4月7日 デジタル毎日 15歳のニュースより抜粋・一部改編)

問3 下線部②について、平成の時代に起こった出来事としてふさわしくないものを、下の(ア)～(エ)の中から一つ選び記号で答えなさい。

- (ア) 消費税が5%から8%に増税された。
- (イ) 第二次安倍内閣により、アベノミクスが開始された。
- (ウ) 東日本大震災により、福島第一原発で事故が発生した。
- (エ) オイル・ショックにより、高度経済成長期が終わりを迎えた。

問4 下線部③について、大日本帝国憲法および日本国憲法に定められている天皇についての記述としてふさわしいものを、下の(ア)～(エ)の中から一つ選び記号で答えなさい。

- (ア) 日本国憲法下において、主権者は国民と天皇である。
- (イ) 日本国憲法下において天皇は、国会が制定した法律を拒否することができない。
- (ウ) 大日本帝国憲法下において、天皇は日本国及び日本国民統合の象徴として扱われていた。
- (エ) 大日本帝国憲法下において、天皇が国事行為を行う場合、内閣の助言と承認を必要としていた。

記事D

^{もうしよ}猛暑、世界的な現象 専門家「温暖化と関係」

日本各地で過去最高気温を更新するなど記録的な^{もうしよ}猛暑となっている。西日本豪雨のような異常気象があいつぐほか、米国やアフリカなど世界各地でも最高気温を記録している。専門家は、異常気象は長期的な④地球温暖化の傾向と関係があると指摘している。

(2018年7月21日 日本経済新聞電子版より抜粋・一部改編)

問5 下線部④について、2015年につくられ、世界のほとんどの国が参加する2020年以降の新たな温暖化対策の世界的な枠組みの名前としてふさわしいものを、下の(ア)～(エ)の中から一つ選び記号で答えなさい。

- (ア) パリ協定
- (イ) ベルサイユ条約
- (ウ) ポツダム宣言
- (エ) 京都議定書

問題は以上です。